

Objectif : Je sais lire les heures et les minutes.

1. Écris les heures du matin et de l'après-midi pour chaque horloge.



Matin : ...4... h ...05. min

Après-midi : ...16. h ...05. min



Matin : ...7... h ...15. min

Après-midi : ...19. h ...15... min



Matin : ...11. h ...25 min

Après-midi : ...23. h ...25.. min



Matin : ...8... h ...10 min

Après-midi : ...20. h ...10. min



Matin : ...11. h ...30 min

Après-midi : ...23. h ...30 min



Matin : ...12. h ...40 min

Après-midi : ..00. h ...40. min



Matin : ...5... h ...55. min

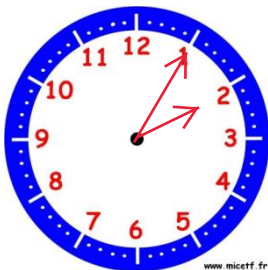
Après-midi : ...17. h ...55 min



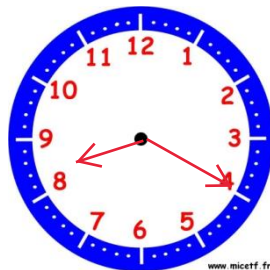
Matin : ...9... h ...50 min

Après-midi : ...21. h ...50 min

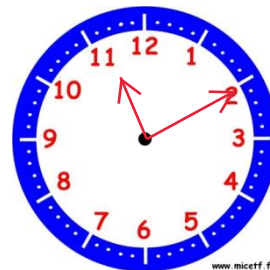
2. Place les aiguilles selon les heures indiquées.



Il est 2 h 05 min.



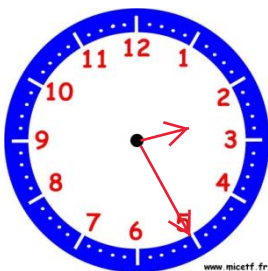
Il est 8 h 20 min.



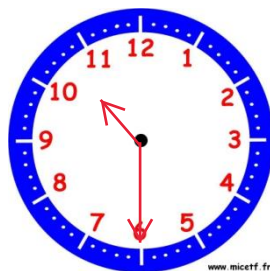
Il est 11 h 10 min.



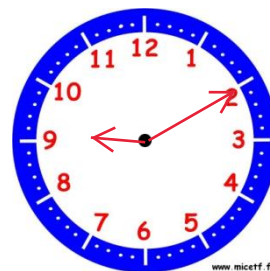
Il est 9 h 50 min.



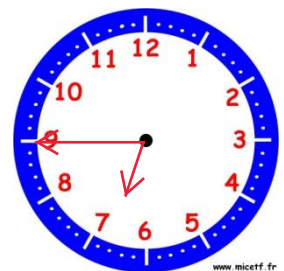
Il est 14 h 25 min.



Il est 22 h 30 min.



Il est 21 h 10 min.



Il est 18 h 45 min.