

Objectif : Je sais lire les heures et les minutes.

1. Écris les heures du matin et de l'après-midi pour chaque horloge.



Matin : ..... h ..... min

Après-midi : ..... h ..... min



Matin : ..... h ..... min

Après-midi : ..... h ..... min



Matin : ..... h ..... min

Après-midi : ..... h ..... min



Matin : ..... h ..... min

Après-midi : ..... h ..... min



Matin : ..... h ..... min

Après-midi : ..... h ..... min



Matin : ..... h ..... min

Après-midi : ..... h ..... min



Matin : ..... h ..... min

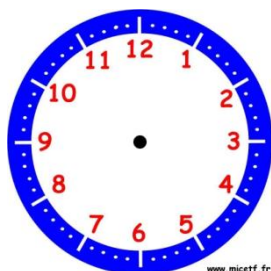
Après-midi : ..... h ..... min



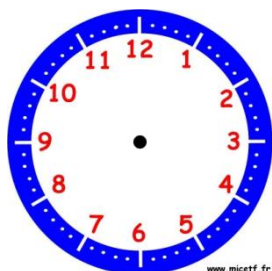
Matin : ..... h ..... min

Après-midi : ..... h ..... min

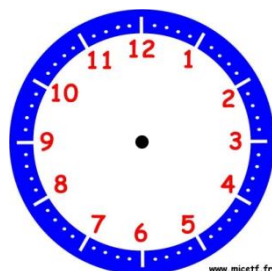
2. Place les aiguilles selon les heures indiquées.



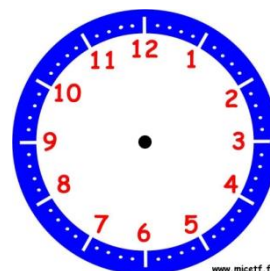
Il est 2 h 05 min.



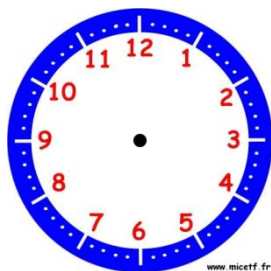
Il est 8 h 20 min.



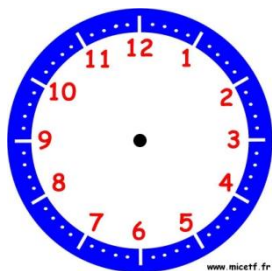
Il est 11 h 10 min.



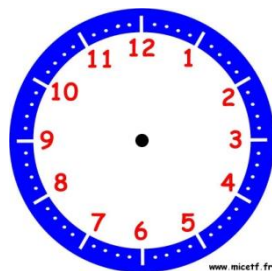
Il est 9 h 50 min.



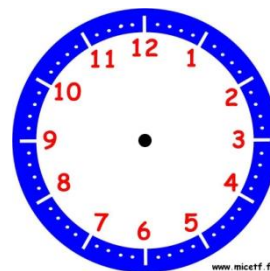
Il est 14 h 25 min.



Il est 22 h 30 min.



Il est 21 h 10 min.



Il est 18 h 45 min.