

LES LIEUX DU LOGEMENT DANS LA VILLE

Une famille de Tourcoing

Lis le texte.

Philippe et Sylvie Delobel habitent dans un pavillon situé Boulevard d'Halluin à Tourcoing. Tourcoing est une commune située dans le nord de la France. Elle compte un peu moins de 100 000 habitants.

Philippe et Sylvie ont trois enfants. Lucas, l'aîné, a 18 ans et il est étudiant. Cécile, 16 ans, est en seconde. Julien, le plus jeune, a 9 ans et il est en CM1. Philippe et Sylvie ne s'entendent plus et ont décidé de se séparer.

a. De quel type de document s'agit-il ?

b. Qu'est-ce qu'un pavillon ?

c. De quoi parle ce document ?

d. Quel sera le changement majeur dans l'organisation de la vie de cette famille ?


Formes et types d'habitat urbain

1. Lis le texte et remplis le tableau.

En se séparant, le couple va devoir revendre son pavillon.

Philippe souhaite rester en habitat individuel. Il va acheter une maison de ville.





Sylvie voudrait habiter dans un appartement, c'est-à-dire en habitat collectif. L'agence immobilière lui a proposé un appartement au premier étage d'un immeuble du centre-ville, juste au-dessus d'un commerce. Finalement, Sylvie a opté pour un appartement dans un grand ensemble de 8 étages.



Nom du ou des propriétaires				
Forme de l'habitat				
Type d'habitat				

2. Regroupe dans le tableau suivant les deux grands types d'habitat avec les quatre formes d'habitat vues ci-dessus. Observe les symboles ci-dessous. Tente de retrouver quel symbole correspond à chaque forme d'habitat.

Habitat		Habitat	
.....
.....

Ville de Tourcoing – Plan A

- a. Souligne en bleu le titre.
- b. Entoure en orange l'orientation de la carte.
- c. Entoure en vert l'échelle.
- d. Entoure en rouge la légende.
- e. Complète le panneau de la ville sur le plan.

Observe les quatre logements mis en évidence par un trait plus gras sur le plan.

Ce sont les quatre logements dont nous avons parlé pour la famille Delobel. dans les petits carrés situés à côté de chaque logement, inscrivez les initiales des propriétaires que nous avons identifiés sur le document précédent : PS pour Philippe et Sylvie, P pour Philippe, S pour Sylvie et O pour le logement proposé par l'agence immobilière mais non retenu.

Les différentes formes d'habitat sont symbolisés par des dessins. Les autres lieux en revanche sont représentés par une forme comportant le nom de chaque lieu. cela surcharge le plan.

f. La légende ne comporte que deux éléments. Lesquels ?

Ville de Tourcoing – Plan B

- a. Colorie au crayon de couleur rose l'habitat collectif.
- b. Colorie au crayon de couleur rouge l'habitat individuel.
- c. Complète la légende B en y indiquant les différents lieux du logement.

TRACE ECRITE

- *Les lieux du logement occupent une partie des espaces urbains.*
- *Deux grandes catégories se distinguent : l'habitat individuel qui accueille une seule famille et l'habitat collectif qui en accueille plusieurs.*

Lexique

Pavillon

Maison individuelle non directement accolée aux maisons voisines.

Grand ensemble

Ensemble de bâtiments d'habitation accueillant un grand nombre d'habitants.

Périphérie d'une ville

Zone urbaine située autour du centre-ville.