

HABITER DE MANIERE TEMPORAIRE

Les hébergements temporaires aux alentours de Rambures



Jacques

Après le passage entre Massif central et Alpes, cap au nord vers le village de Rambures et son château! Ce soir, vous dormirez dans des hébergements variés situés dans les communes environnantes. Hôtel, roulotte, tente, chambre d'hôtes et même cabane dans les arbres, il y en a pour tous les goûts!

- 1 Observe les cinq photographies. À l'aide des indications de Jacques, donne un nom à chaque hébergement.
- 2 À l'aide des indices A, B et C, situe chaque hébergement en écrivant le nom de sa commune.
 - A L'hébergement le plus aérien se situe dans la commune de Miannay alors que le moins solide se trouve à Blangy-sur-Bresle.
 - B Celui qui emprunte son nom à un sport automobile se situe à Abbeville alors que celui qui est à l'origine un moyen de transport se localise à Fressenville.
 - C Les propriétaires du manoir Les Arums aménagé en chambres d'hôte résident dans la commune de Citernes.



1 Cabane dans les arbres

2 Miannay



1 Roulotte

2 Fressenville



1 Tente

2 Blangy-sur-Bresle



1 Hôtel

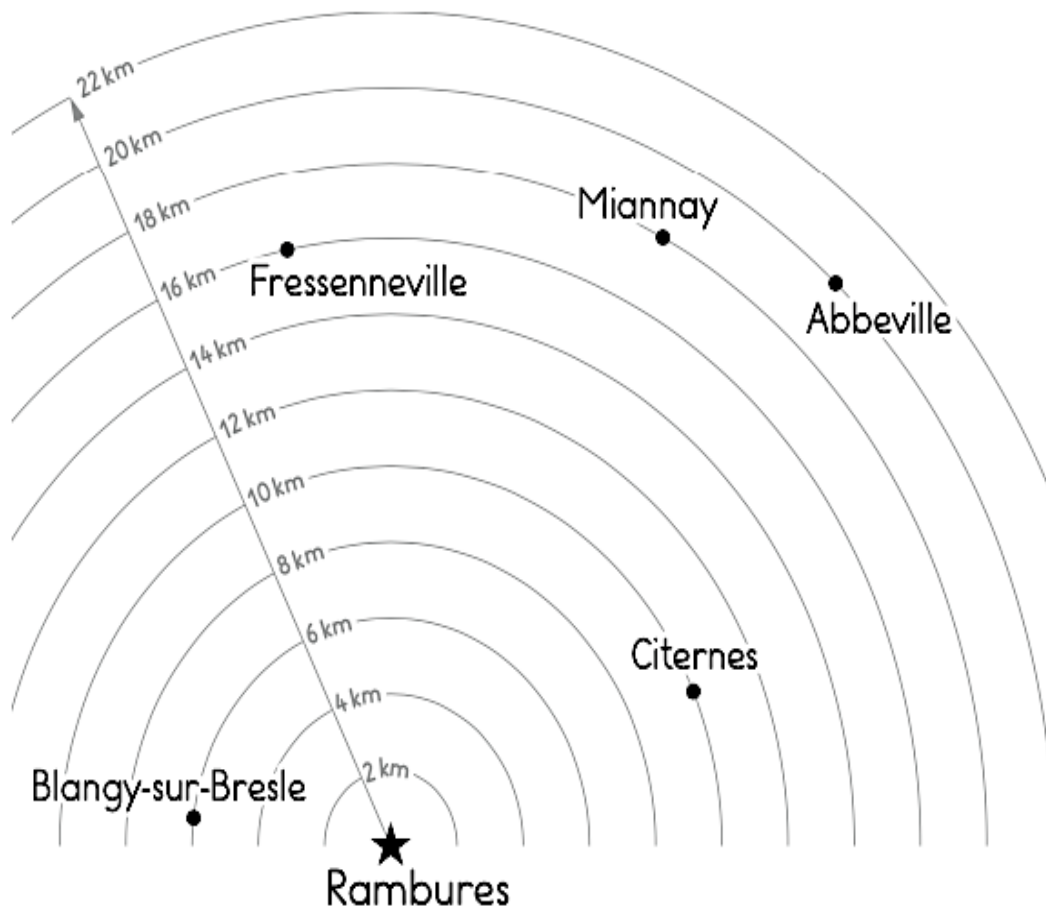
2 Abbeville

1 Chambre d'hôte

2 Citernes



Les distances à vol d'oiseau jusqu'à Rambures



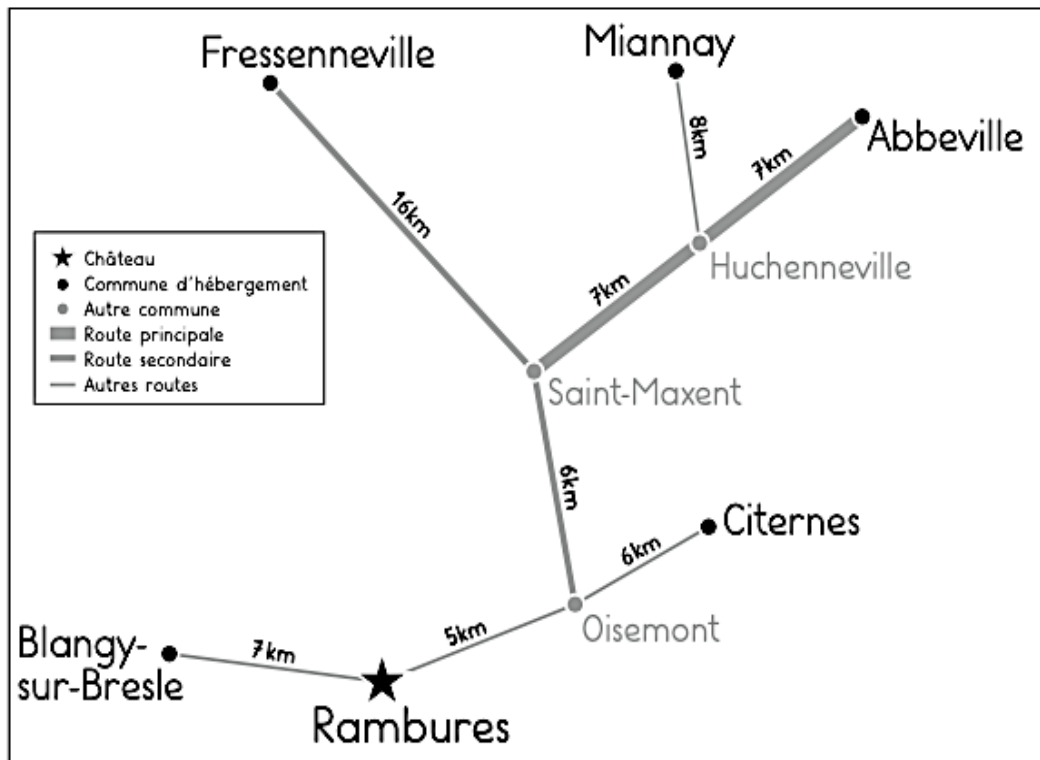
À l'aide des cercles, lis la distance à vol d'oiseau qui sépare chaque commune d'hébergement de Rambures.

- 1 Remplis le tableau avec ces distances.
- 2 Range les communes de la plus proche à la plus éloignée à vol d'oiseau de Rambures (de 1 à 5).

Commune	Distance	Rang
Blangy-sur-Bresle	6km	1
Citernes	10km	2
Fressenneville	16km	3
Miannay	18km	4
Abbeville	20km	5

Plan non conforme pour éviter les nombres à virgule

Les distances par la route jusqu'à Rambures



- 1 À l'aide des mesures indiquées, calcule la distance qui sépare chaque commune de Rambures par la route. Remplis le tableau.
- 2 Range les communes de la plus proche à la plus éloignée en distance réelle de Rambures (de 1 à 5).

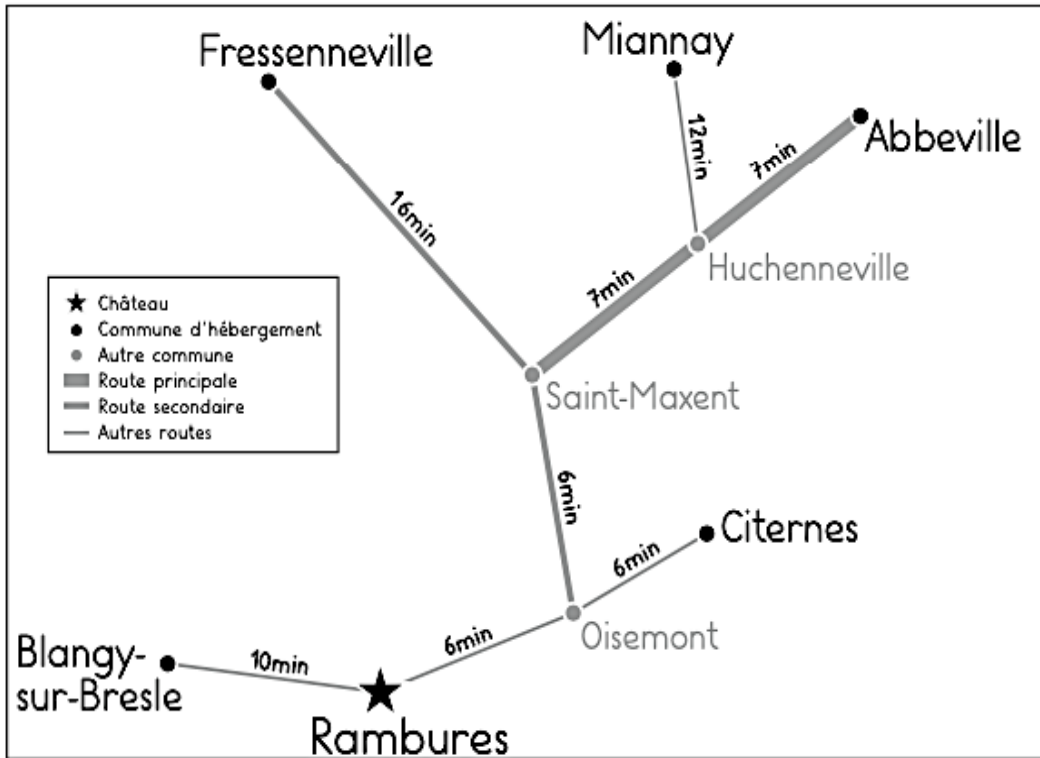
Commune	Distance	Rang
Blangy-sur-Bresle	7km	1
Citernes	11km	2
Fressenneville	27km	5
Miannay	26km	4
Abbeville	25km	3

Plan non conforme pour éviter les nombres à virgule

- 3 Pourquoi le classement n'est-il pas le même que dans le document 60?

Certaines routes ne mènent pas directement à Rambures, il faut faire des détours par d'autres villes ce qui rallonge le trajet.

Le temps d'accès à Rambures



- 1 À l'aide des durées indiquées, calcule le temps d'accès de chaque commune à Rambures par la route. Remplis le tableau.
- 2 Range les communes de la plus proche à la plus éloignée de Rambures en temps.

Commune	Durée	Rang
Blangy-sur-Bresle	10min	1
Citernes	12min	2
Fressenneville	28min	4
Miannay	31min	5
Abbeville	26min	3

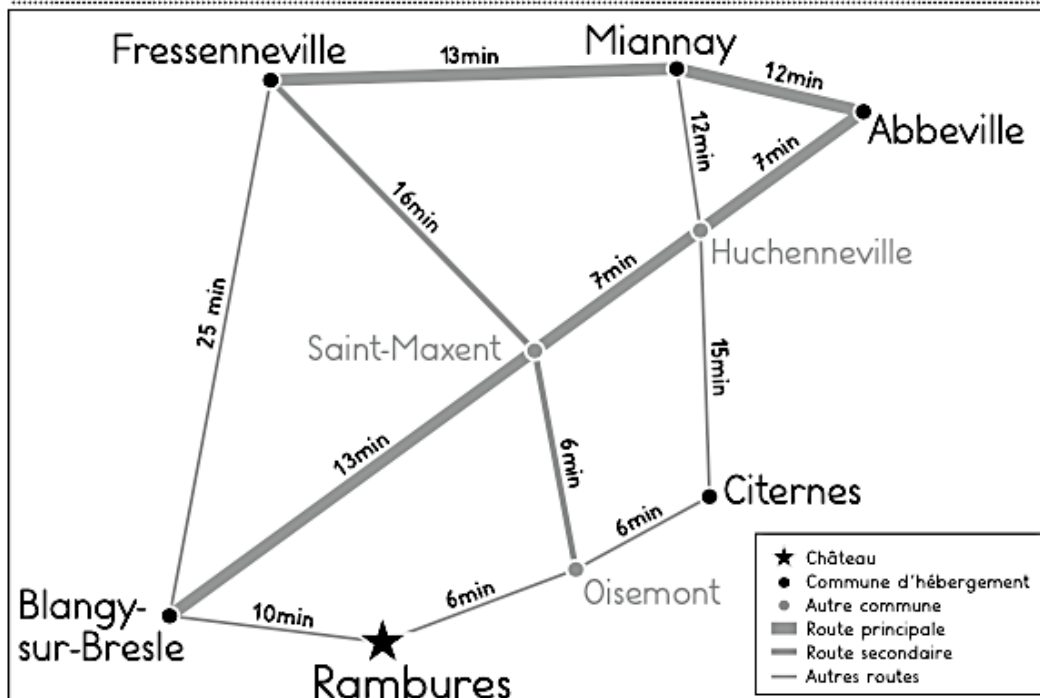
- 3 Que conclus-tu en comparant ce classement aux deux précédents?
Le type de routes a de l'influence sur la durée du trajet. Les grandes routes permettent d'aller plus vite.
Les petites routes imposent des ralentissements (feux tricolores, ronds-points...).

La durée du circuit de ramassage

Jacques a prévu un circuit pour ramasser tous les touristes éparpillés dans les 5 communes. Il est logé par son cousin à Citernes. Il y démarre le ramassage dès 8 heures avec les premiers passagers embarqués. Dans chaque commune, il prévoit environ 5 minutes d'arrêt pour faire monter les touristes dans son minibus.

- 1 D'après le tableau de ramassage, trace son circuit en rouge sur le plan, calcule les horaires prévus et inscris-les dans le tableau.
- 2 Quels pourraient être les imprévus qui lui feraient manquer son rendez-vous de 10 heures à Rambures?

Un accident, un ralentissement dû à un véhicule lent, des travaux, le retard d'un touriste...



Départ de Citernes	8h
Arrivée à Abbeville	8h22
Départ d'Abbeville	8h27
Arrivée à Miannay	8h39
Départ de Miannay	8h44
Arrivée à Fressenneville	8h57
Départ de Fressenneville	9h02
Arrivée à Blangy-sur-Bresle	9h27
Départ de Blangy-sur-Bresle	9h32
Arrivée au château de Rambures	9h42