

1 Vrai ou faux. Colorie la bonne réponse.

- Un polygone est composé uniquement de lignes droites..... 

V	F
---	---
- Un polygone est une figure fermée ..... 

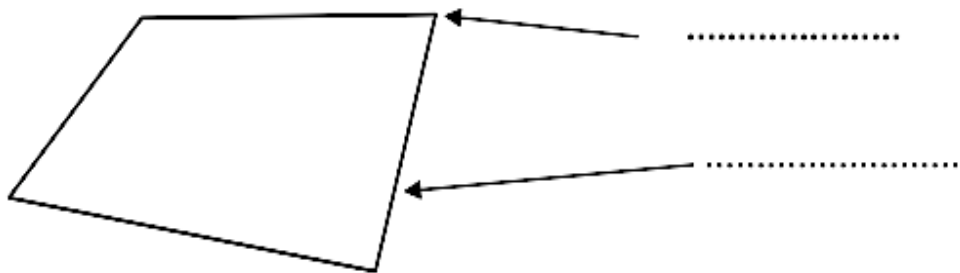
V	F
---	---
- Un cercle est un polygone à 1 côté ..... 

V	F
---	---
- Un carré est un polygone à 4 côtés ..... 

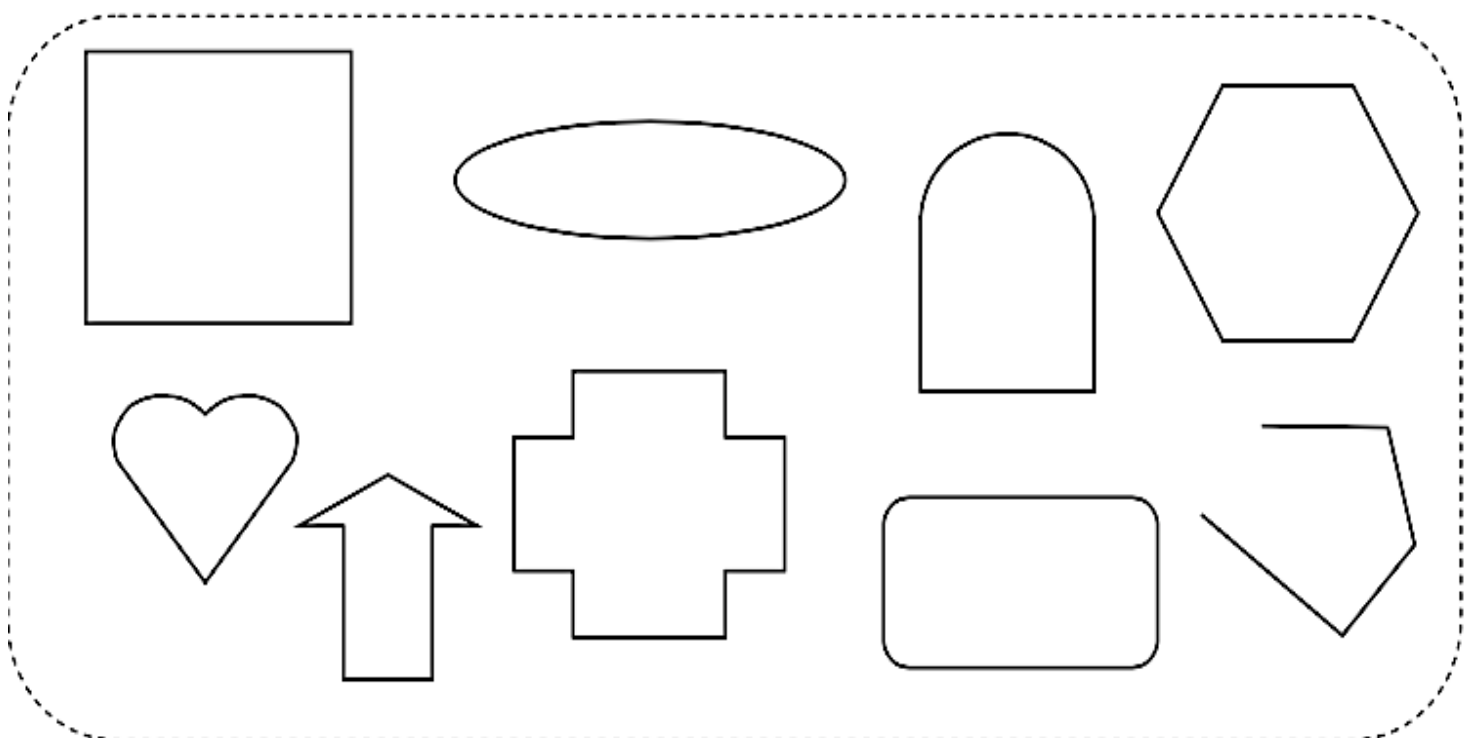
V	F
---	---
- Un polygone a plus de côtés que de sommets ..... 

V	F
---	---

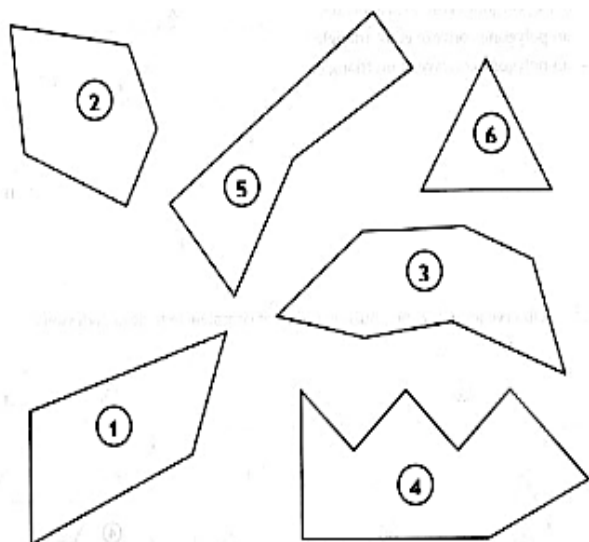
2 Complète la légende du polygone suivant.



3 Colorie uniquement les polygones



**4 Observe les polygones et complète le tableau.**



Polygones	1	2	3	4	5	6
Nombre de côtés						
Nombre de sommets						

**Que remarques-tu ?** .....

.....

**5 Complète les définitions suivantes.**

Un polygone avec 5 cotés est un .....


Un polygone avec 3 sommets est un .....

Un polygone avec 4 cotés est un .....

Un polygone avec 6 sommets est un .....

**6 Construction :**

- 1-Trace un pentagone quelconque.
- 2- Repasse les côtés en rouge.
- 3- Entoure les sommets en bleu.



- 1-Trace un quadrilatère quelconque.
- 2- Repasse les côtés en rouge.
- 3- Entoure les sommets en bleu.

