



Lire, écrire et représenter des fractions simples

1 Ecris les fractions dictées en chiffres.

$\frac{1}{2}$; $\frac{1}{4}$; $\frac{2}{3}$; $\frac{3}{5}$; $\frac{4}{3}$; $\frac{7}{12}$

2 Ecris ces fractions en lettres.

$\frac{1}{4}$ = un quart

$\frac{8}{4}$ = Huit quarts

$\frac{6}{10}$ = six dixièmes

$\frac{1}{3}$ = un tiers

$\frac{3}{5}$ = trois cinquièmes

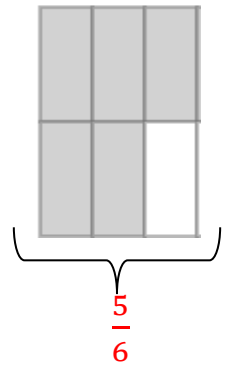
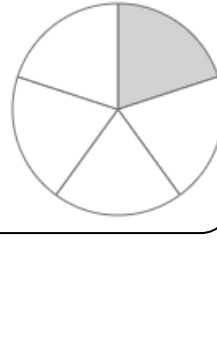
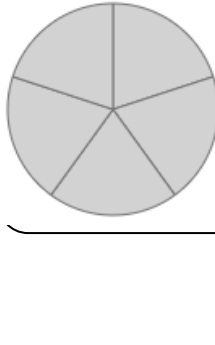
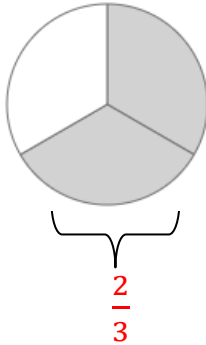
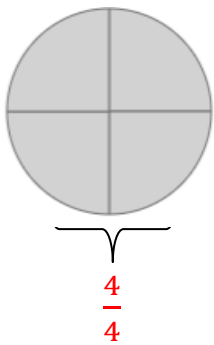
$\frac{7}{100}$ = sept centièmes

$\frac{1}{2}$ = un demi

$\frac{5}{3}$ = cinq tiers

$\frac{8}{12}$ = Huit douzièmes

3 A quelles fractions correspondent les parties grisées ?



4 Représente ces fractions

