



Représentations

Dessine un paysage que tu peux observer proche de l'école ou lors d'une sortie (tourne la feuille).



Les différents types de paysages

Découpe ces paysages, trie-les et colle-les sur ton cahier en regroupant ceux qui à ton avis vont ensemble. Écris un titre au-dessus de chaque catégorie de paysages (il y en a 4).

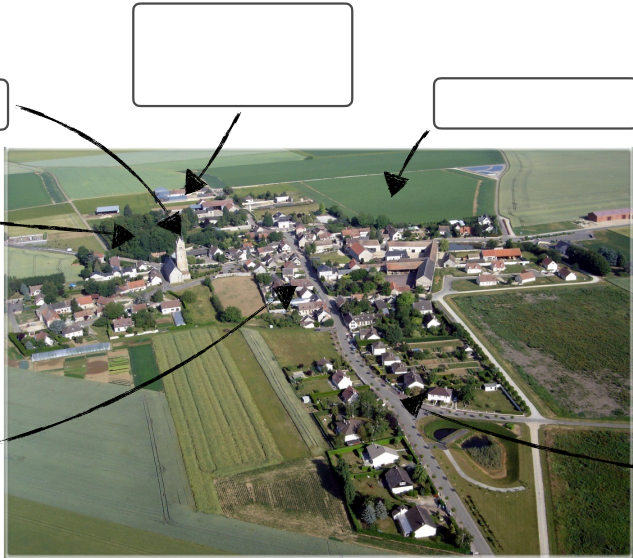


Les paysages ruraux

Qu'est-ce qu'un paysage rural ?

Observe ce paysage et place les mots suivants :

église - champs - voie de communication - bois - bâtiments agricoles - maisons



Quelle est la principale activité des hommes ici ?

Pour chaque élément, coche une des deux cases.

	naturel	aménagé par l'homme
la route		
les bois		
les champs		
les bâtiments		

Les paysages urbains

Qu'est-ce qu'un paysage urbain ?

Observe ces photographies prises en ville et écris leur légende :

monument ancien - tour - immeuble ancien - maison individuelle - zone commerciale - transport en commun













Observe cette photographie. Quel gros problème se pose en ville ?



Où se situe la partie la plus ancienne d'une ville ?

Dans le centre ville

En périphérie

Où se situe la partie la plus récente d'une ville ?

Dans le centre ville


En périphérie

Les paysages de montagne

Qu'est-ce qu'une montagne ?

Observe ce paysage et place les mots suivants :

versant - vallée - ville - sommets - voie de communication - forêt



Observe cette photo. Quelle est l'activité principale des hommes ici ?



L'agriculture

Le tourisme

La pêche

Quels aménagements ont été réalisés par l'homme pour cette station de ski ?

Les paysages de littoral

Qu'est-ce que le littoral ?

Observe ces photographies et légende chaque type de littoral :

côtes à falaises - côtes sablonneuses - côtes découpées



Relie chaque port à son activité principale.



•

•

•

Loisirs

Pêche

Commerce

Cet immeuble construit par l'homme a dû être évacué. Pourquoi ?