


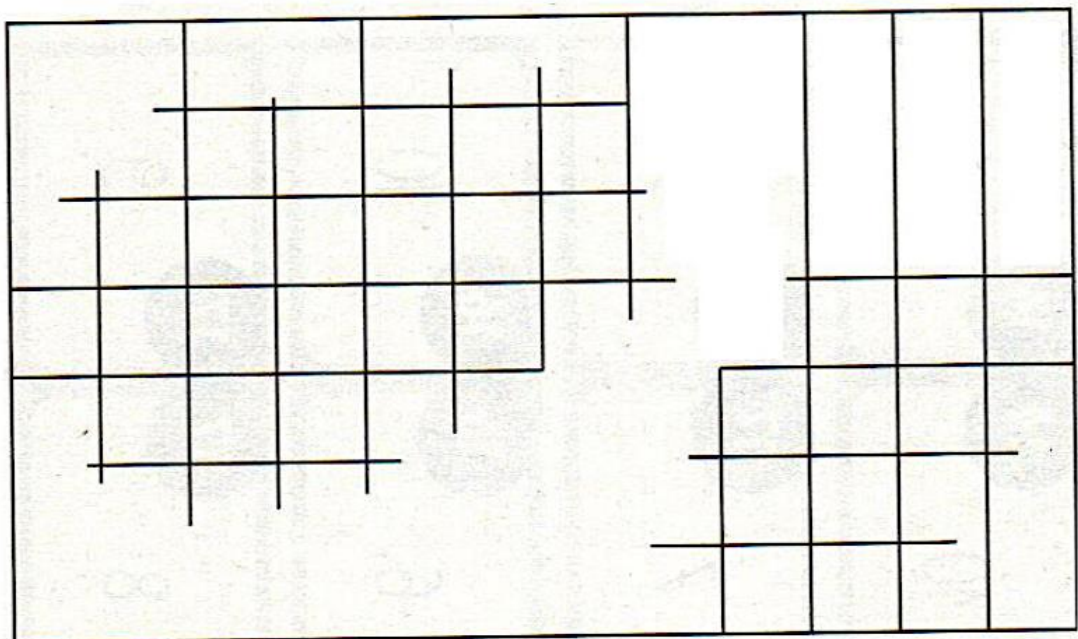
MESURES

Faire des tracés soignés à la règle

***Avec une règle et un crayon bien taillé, retrace les traits de la tente.**








****Une partie du quadrillage a été effacée, retrace-le.**




La monnaie



*Quelle est la somme d'argent représentée? (rappel: 1€ = 100c)

 <p>0 euro et 78 cts</p>	 <p>..... euro(s) et cts</p>	 <p>..... euro(s) et cts</p>
 <p>..... euro(s) et cts</p>	 <p>..... euro(s) et cts</p>	<p>2 pièces de </p> <p>3 pièces de </p> <p>3 pièces de </p> <p>..... euro(s) et cts</p>



*Colorie les pièces et billets nécessaires pour acheter les objets suivants:





15 €

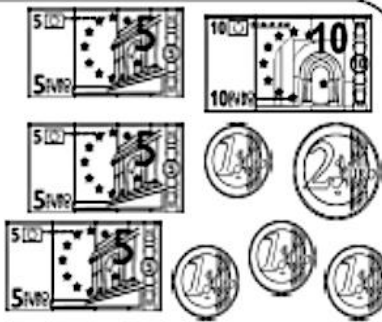
23 €

19 €

27 €



** Écris les pièces et billets nécessaires pour faire les sommes suivantes:

25 € 10 4 € 36

30 € 62 9 € 70

Mesurer des segments en cm et mm

***Encadre ces mesures par les longueurs en cm les plus proches. $8\text{ cm} < 8\text{ cm } 6\text{ mm} < 9\text{ cm}$**

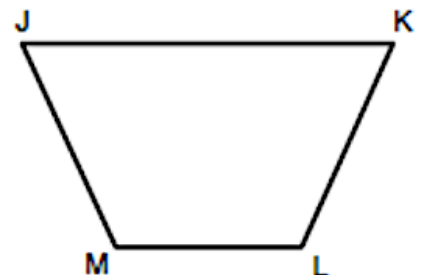
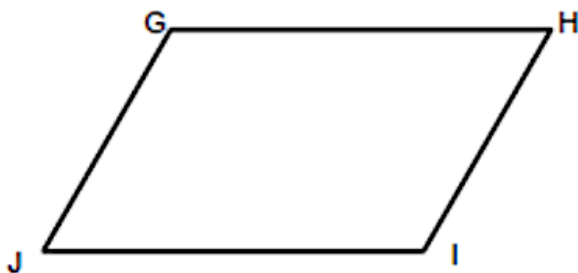
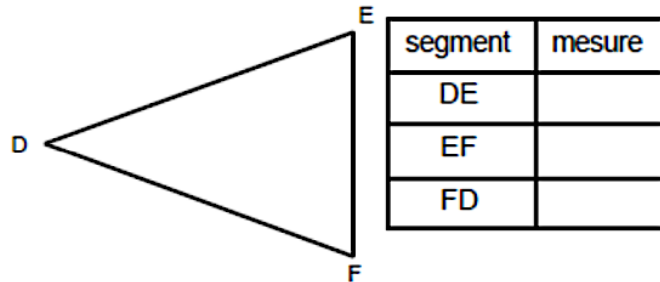
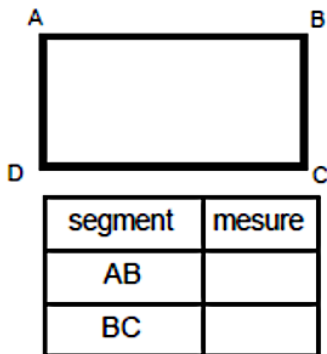
..... < 2 cm 8 mm <

..... < 5 cm 1 mm <

..... < 12 cm 3 mm <

..... < 2 cm 5 mm <

****Mesure chaque côté des figures et complète les tableaux.**



segment	mesure
GH	
HI	

segment	mesure
JK	
KL	
LM	

Tracer des segments en cm et en mm

***Trace les segments suivants. (N'oublie pas d'indiquer le nom du segment.)**

AB = 5 cm

BC = 7 cm

CD = 3,5 cm

EF = 4,8 cm